

Упражнения на проценты
(из учебника Н.Я. Виленкин, математика 5 класс)

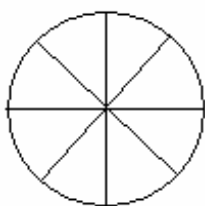
Упражнение 1.

Заполните таблицу:

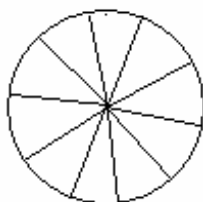
Дробь	$\frac{1}{2}$		$\frac{1}{10}$		$\frac{1}{50}$		
Десятичная дробь		0,25				0,05	
Проценты				20%		100%	1%

Упражнение 2.

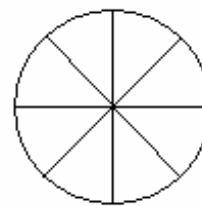
Закрасьте часть круга:



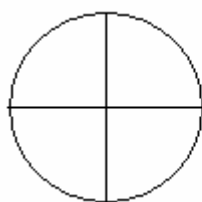
25%



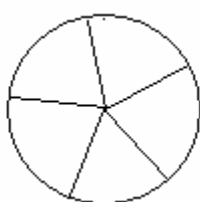
30%



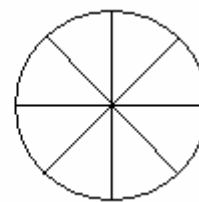
37,5%



75%




60%




12,5%

Упражнение 3.

Поле разбито на 100 равных долей. Закрашенная часть засеяна рожью. Найдите площадь всего поля, если площадь, засеянная рожью, равна а) 0,6 га; б) $\frac{1}{5}$ га:



а)



б)