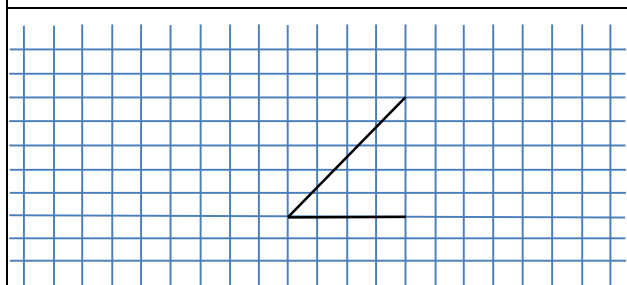


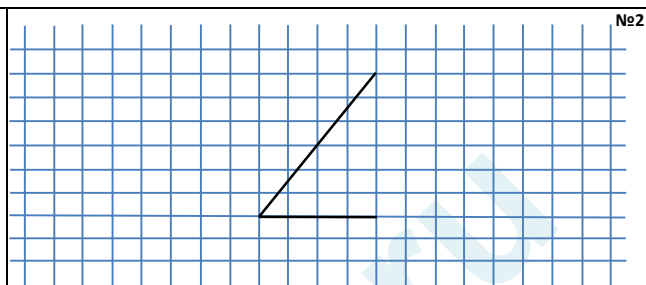
Планиметрия

Синус, косинус, тангенс, котангенс угла

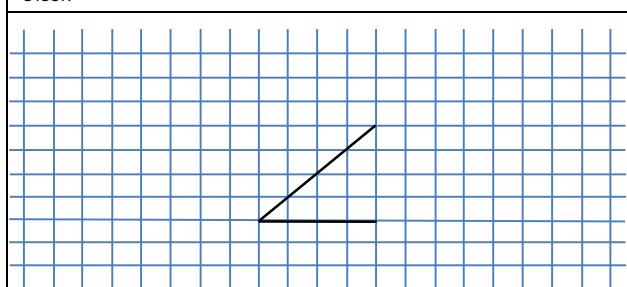
Найдите тангенс угла. Все клетки равны 1.



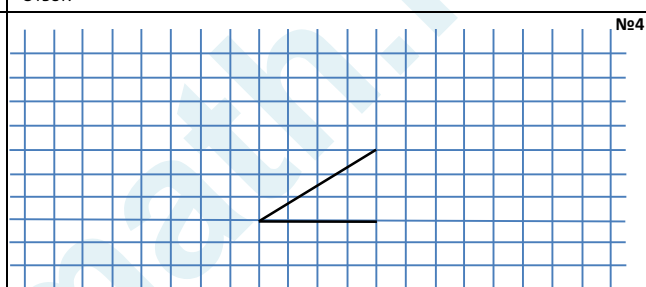
Ответ:



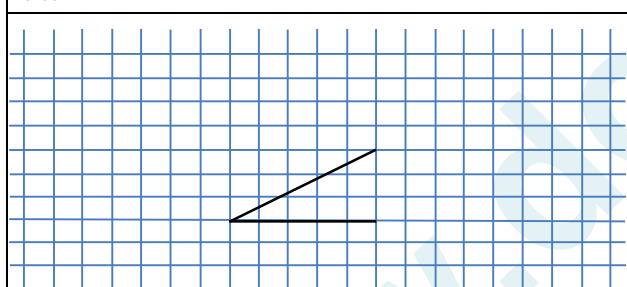
Ответ:



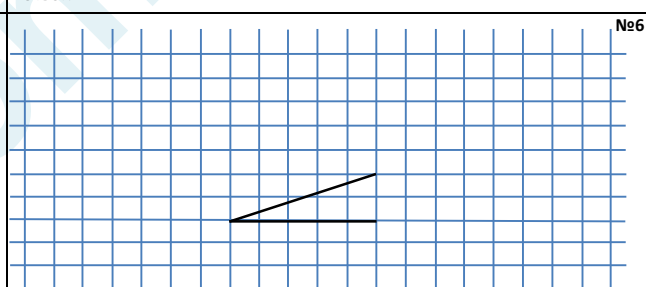
Ответ:



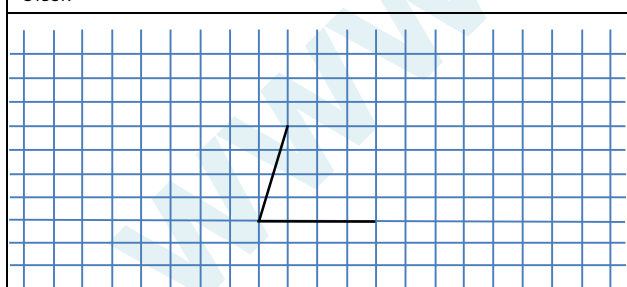
Ответ:



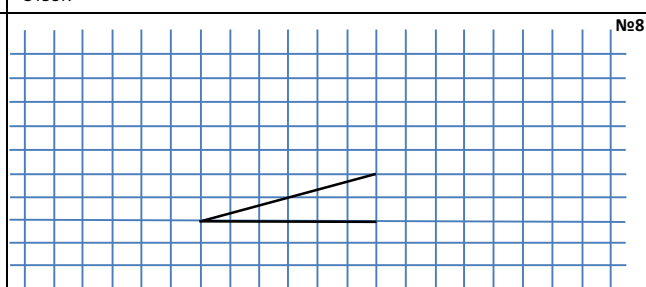
Ответ:



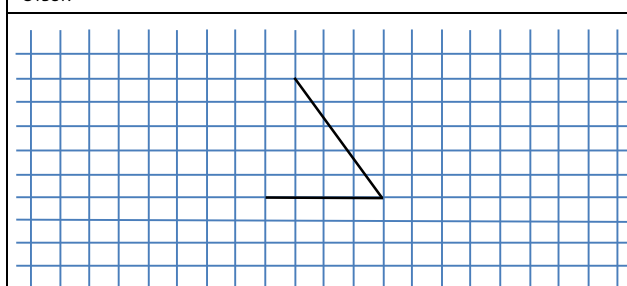
Ответ:



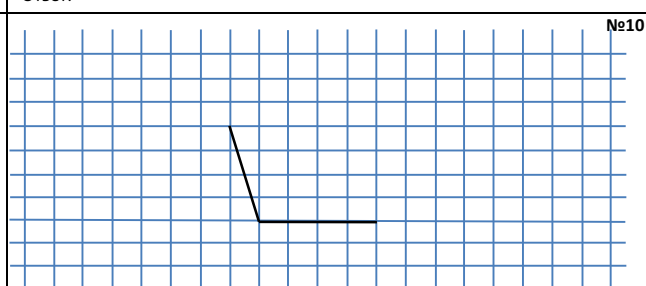
Ответ:



Ответ:




Ответ:



Ответ:

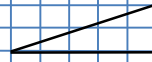
Найдите синус угла. Все клетки равны 1.

№11



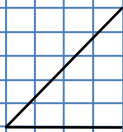
Ответ:

№12



Ответ:

№13



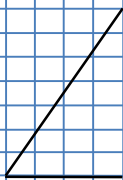
Ответ:

№14




Ответ:

№15



Ответ:

№16



Ответ:

№17



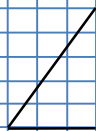
Ответ:

№18



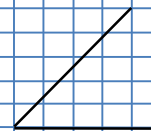
Ответ:

№19



Ответ:

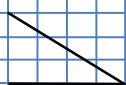
№20



Ответ:

Найдите косинус угла. Все клетки равны 1.

№21



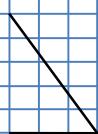
Ответ:

№22



Ответ:

№23



Ответ:

№24



Ответ:

№25



Ответ:

№26



Ответ:

№27



Ответ:

№28



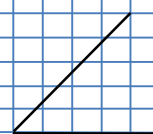
Ответ:

№29



Ответ:

№30



Ответ: